

COMPOSITION DE PHYSIQUE – B – (XEULC)

(Durée : 4 heures)

L'utilisation des calculatrices n'est pas autorisée pour cette épreuve.

★ ★ ★

Dynamique de lignes de tourbillon dans les fluides parfaits

On s'intéresse à l'écoulement d'un fluide parfait et incompressible. On note le champ de vitesse $\mathbf{u}(x, y, z, t)$, et on définit la vorticité de l'écoulement :

$$\boldsymbol{\omega} = \text{rot } \mathbf{u} . \quad (1)$$

Les quantités écrites en caractères gras représentent des vecteurs. On s'intéresse à des lignes de vorticité, voir figure 1 : la vorticité est orientée le long de la ligne, et $\boldsymbol{\omega} = 0$ en dehors de ces lignes. Une telle ligne de vorticité est une approximation pour un tourbillon dont la vorticité est localisée dans un coeur de rayon très faible. Une ligne de vorticité est caractérisée par sa "circulation" Γ , dont l'unité S.I. est $\text{m}^2 \text{s}^{-1}$: la circulation du champ de vitesse \mathbf{u} sur un contour fermé entourant la ligne de vorticité dans le sens direct vaut Γ , tandis que la circulation du champ de vitesse sur un contour qui n'englobe aucune ligne de vorticité est nulle.

On souhaite déterminer le champ de vitesse associé à une distribution de lignes de vorticité donnée. Pour ce faire, on remarque que le problème est analogue à un problème de magnétostatique. L'analogue de $\boldsymbol{\omega}$ est $\mu_0 \mathbf{j}$, où \mathbf{j} est le vecteur densité de courant et μ_0 la perméabilité magnétique du vide. Une ligne de vorticité est l'équivalent d'un câble électrique, et sa circulation Γ a pour analogue $\mu_0 I$, où I est l'intensité du courant électrique parcourant le câble.

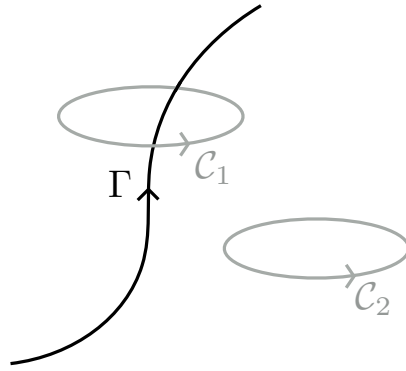


Figure 1: Une ligne de vorticit  est caract ris e par sa “circulation” Γ . La circulation du champ de vitesse sur le contour ferm  \mathcal{C}_1 entourant la ligne dans le sens direct vaut Γ . Le contour \mathcal{C}_2 n’entoure aucune ligne de vorticit  : la circulation du champ de vitesse le long de ce contour est donc nulle.

- 1) L’ quation (1) est alors l’analogie de l’ quation de Maxwell-Amp re, dans sa version ind pendante du temps (limite magn tostatique). Ecrivez cette  quation. Quel est l’analogie en magn tostatique du champ de vitesse \mathbf{u} d crit par l’ quation (1) ?
- 2) Quelle est l’autre  quation de Maxwell locale v rifi e par le champ magn tique? Quel est son  quivalent dans le probl me fluide consid r  ici ? Expliquez pourquoi cette  quation est v rifi e dans le probl me fluide.
- 3)  noncez le th or me d’Amp re pour la magn tostatique. En utilisant l’analogie d crite pr c demment, en d duire un  nonc  similaire pour le probl me fluide.
- 4) Toujours dans le cadre de ce parall le,  noncez les propri t s de $\mathbf{u}(\mathbf{x})$ lorsque \mathbf{x} appartient   un plan de sym trie ou d’antisym trie de la distribution de vorticit .
- 5) On se place en coordonn es cylindriques (r, θ, z) et on consid re une ligne de vorticit  confondue avec l’axe (Oz) . Cette ligne de vorticit  a une circulation Γ dans la direction de (Oz) . En explicitant les sym tries et invariances du probl me, calculez le champ de vitesse associ    cette ligne de vorticit .

1 Mouvement de lignes de vorticit 

On admet que, dans un fluide parfait, la vorticit  est “attach e” aux particules de fluide : elle est simplement advect e (c’est- -dire transport e) par la vitesse locale du fluide au point consid r .

On consid re le mod le de Rankine d’un tube de vorticit . On se place en coordonn es cylin-

driques, et on considère le champ de vorticit e suivant:

$$\boldsymbol{\omega} = \begin{cases} \Omega \mathbf{e}_z & \text{pour } r \leq a \\ 0 & \text{pour } r > a \end{cases} \quad (2)$$

La vorticit e est uniforme et dirig ee selon z dans un coeur de rayon a , tandis qu'elle est nulle en dehors de ce coeur.

6) Calculez l'expression du champ de vitesse en tout point de l'espace.

7) Expliquez pourquoi l'advection de la vorticit e par ce champ de vitesse ne modifie pas la distribution de vorticit e (2). En d eduire que le tube de vorticit e reste immobile et invariant dans le temps.

Ce r esultat reste vrai lorsque l'on consid ere la limite $a \rightarrow 0$: une ligne de vorticit e rectiligne ne se d eplace pas sous l'effet du champ de vitesse qu'elle engendre. Dans toute la suite du sujet on consid ere des lignes de vorticit e.

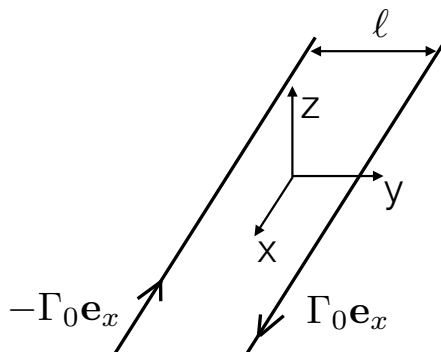


Figure 2: Deux lignes de vorticit e parall eles, ayant des circulations oppos ees.

On consid ere maintenant deux lignes de vorticit e rectilignes, infinies et parall eles   l'axe (Ox). Ces lignes sont repr esent ees sur la figure (2). A l'instant initial $t = 0$, la ligne 1 occupe la position $(Y_1 = +\ell/2, Z_1 = 0)$ et a une circulation Γ_0 dans la direction $+\mathbf{e}_x$, tandis que la ligne 2 occupe la position $(Y_2 = -\ell/2, Z_2 = 0)$ et a une circulation Γ_0 dans la direction $-\mathbf{e}_x$. Dans tout ce qui suit, on admet que la circulation de chaque ligne de vorticit e est conserv ee au cours du mouvement.

8) En utilisant la r eponse   la question 5), d eterminez la vitesse induite par la ligne 1 au niveau de la ligne 2. V erifiez qu'elle est  gale   la vitesse induite par la ligne 2 au niveau de la ligne 1. En d eduire que les deux lignes de vorticit e se d eplacent en mouvement rectiligne uniforme.

On consid ere maintenant la situation repr esent ee sur la figure 3 : une ligne de vorticit e de circulation Γ_0 , orient ee positivement selon \mathbf{e}_x , est situ ee   une distance d d'une paroi rigide occupant le plan $y = 0$.

9) Pour ce fluide parfait, quelle condition aux limites doit v erifier le champ de vitesse au niveau de la paroi ?

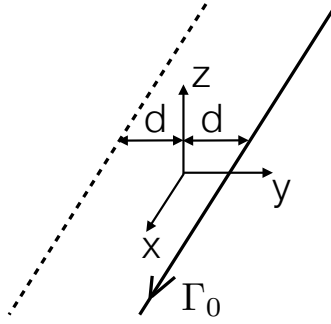


Figure 3: Une ligne de vorticit  de circulation Γ_0 selon \mathbf{e}_x se trouve   une distance d d'une paroi rigide occupant le plan $y = 0$. La condition aux limites   la paroi peut  tre prise en compte en imaginant   tout instant l'existence d'une ligne fictive de vorticit  plac e sym triquement par rapport   la paroi (ligne tiret e).

Une fa on simple de satisfaire cette condition aux limites est d'imaginer   tout instant l'existence d'une ligne de vorticit  plac e de fa on sym trique   la ligne initiale par rapport au plan, voir figure 3.

10) En vous basant sur des arguments de sym trie issus de la magn tostatique, proposez une valeur de la circulation Γ_f de cette ligne fictive (norme et orientation) pour que la condition aux limites sur \mathbf{u} soit bien v rifi e. On admet que le champ de vitesse obtenu par cette approche en termes de lignes de vorticit  sym triques est le bon en tout point du fluide. D duisez alors des questions pr c dentes le mouvement ult rieur de la ligne de vorticit  : vitesse, direction et sens du mouvement.

2 Anneau de vorticit 

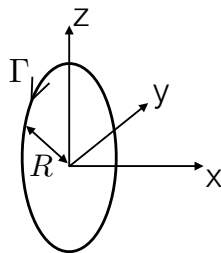


Figure 4: Un anneau de vorticit  de rayon R , d'axe (Ox) et de circulation Γ dans le sens direct autour de cet axe.

On consid re maintenant une ligne de vorticit  ferm e ayant la forme d'un anneau circulaire (voir figure 4). Cet anneau est initialement contenu dans le plan $x = 0$. Il a pour axe (Ox) et sa circulation Γ est orient e dans le sens direct autour de \mathbf{e}_x , voir figure 4. On note R son rayon.

11) A l'aide d'arguments de symétrie issus de l'analogie magnétostatique, montrez que le vecteur vitesse \mathbf{u} est le même en tout point de l'anneau de vorticit  et qu'il est dirig  selon \mathbf{e}_x : $\mathbf{u} = V\mathbf{e}_x$ en tout point de l'anneau de vorticit . Quel est le mouvement de l'anneau de vorticit  ?

12) On admet que la vitesse V est positive selon $+\mathbf{e}_x$ lorsque $\Gamma > 0$, et qu'elle ne d pend que du rayon R de l'anneau et de sa circulation Γ , sous la forme :

$$V = CR^\alpha\Gamma^\beta, \quad (3)$$

o  $C > 0$ est un pr facteur num rique sans dimension. Par analyse dimensionnelle, d terminez α et β .

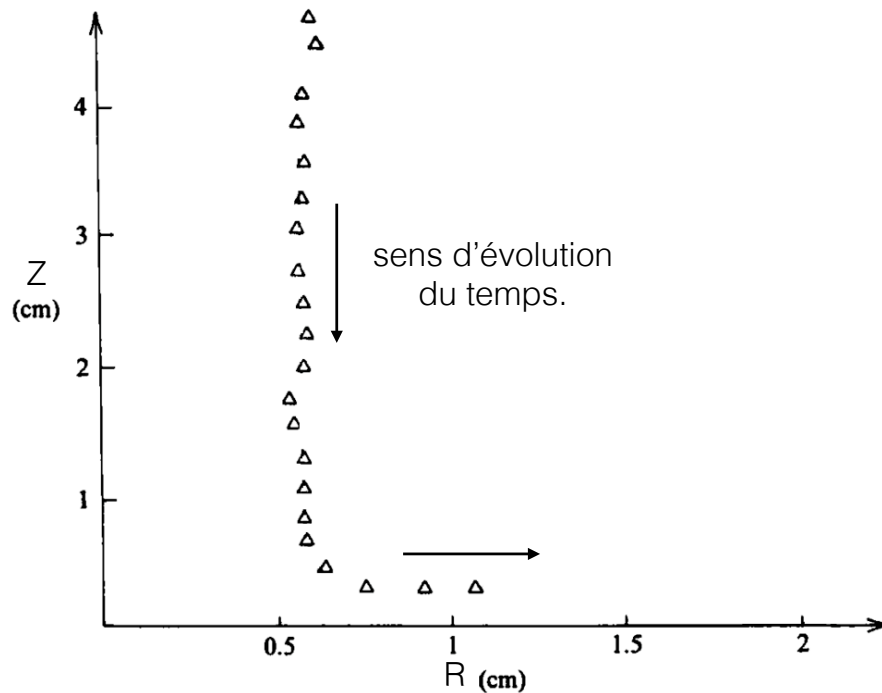


Figure 5: Donn es exp rimentales: on repr sente la hauteur de l'anneau de vorticit  par rapport au fond de la cuve, en fonction du rayon de l'anneau. Le temps  coule entre deux symboles successifs est 0.21 s.

On souhaite d terminer la valeur de la constante C   l'aide de donn es exp rimentales. Pour ce faire, on r alise l'exp rience suivante : on engendre dans un r cipient un anneau de vorticit  d'axe vertical ($0z$). L'anneau se d place initialement vers les z d croissants, avant d'interagir avec le fond du r cipient, situ  en $z = 0$. L'anneau est form  de fluide color , si bien que l'on peut suivre son d placement en prenant des photographies successives. On utilise des coordonn es cylindriques et on repr sente sur la figure 5 le point d'intersection de l'anneau avec un plan $\theta = cste$. On peut donc suivre sur ce graphe l' volution de la hauteur de l'anneau $Z(t)$ par rapport au fond de la cuve, mais aussi l' volution du rayon $R(t)$ de l'anneau au cours du temps. L'intervalle de temps s parant deux symboles successifs est 0.21 s.

13) Les trois derniers points de la courbe correspondent   la situation o  l'anneau est proche du fond de la cuve : Z est petit devant R . Dans ce r gime on admet que l'on peut n gliger

la courbure de l'anneau. Ce dernier se comporte alors approximativement comme une ligne de vorticit e rectiligne situ e   une distance d d'une paroi solide. A l'aide du r esultat de la question 10) et des donn ees de la figure 5, donnez une estimation num erique de la circulation $|\Gamma|$ (en valeur absolue) de l'anneau de vorticit e.

14) Lors de la phase initiale du mouvement, l'anneau est situ e loin du fond du r ecipient, si bien qu'il se comporte comme un anneau isol e dans un domaine fluide infini. A l'aide de la relation (3), des donn ees de la figure 5 et du r esultat de la question pr ec edente, proposez une estimation num erique de la valeur de la constante C .

On consid ere de nouveau un anneau de vorticit e dans un domaine fluide infini (voir figure 4). A grande distance de cet anneau de vorticit e, le champ de vitesse qu'il engendre a une structure dipolaire, que l'on peut  crire :

$$\mathbf{u} = \frac{\|\mathbf{m}\|}{4\pi r^3} (2 \cos \theta \mathbf{e}_r + \sin \theta \mathbf{e}_\theta), \quad (4)$$

o  \mathbf{m} est le moment dipolaire associ e   l'anneau de vorticit e. r et θ sont des coordonn ees sph eriques, l'origine de r  tant le centre de l'anneau, et l'angle θ  tant compt e par rapport   l'axe du dipole.

15) Dessiner sch ematiquement les lignes de champ dipolaires autour de l'anneau de vorticit e. En utilisant vos connaissances sur la spire de courant (d emonstration non demand e), d eterminez le moment dipolaire \mathbf{m}  quivalent   cet anneau de vorticit e, en fonction de Γ et R .

16) Exprimez le champ de vitesse engendr e par l'anneau de vorticit e en un point de l'axe (Ox) situ e   grande distance $L \gg R$ de son centre. On exprimera ce champ en fonction de L , Γ et R .

On consid ere maintenant la situation repr esent e sur la figure 6 : deux anneaux de vorticit e d'axe (Ox) ont des circulations Γ_1 et Γ_2 toutes deux positives dans le sens direct autour de (Ox). Dans le syst eme de coordonn ees cart esiennes (x, y, z) , leurs centres ont respectivement pour coordonn ees $(x_1(t), 0, 0)$ et $(x_2(t), 0, 0)$, avec $x_2 > x_1$. La distance entre les deux centres est donc $\xi(t) = x_2(t) - x_1(t)$.

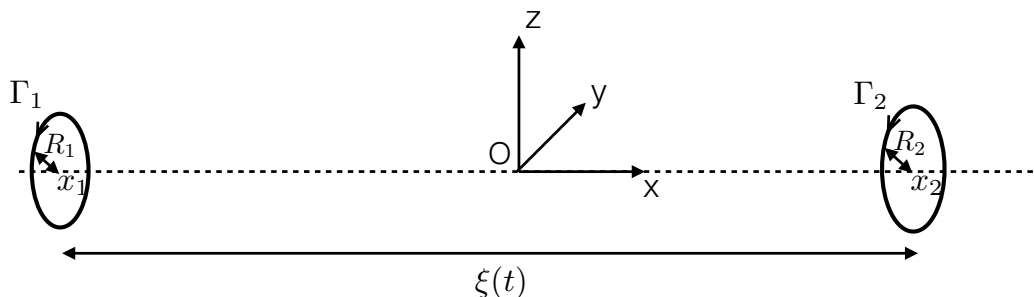


Figure 6: Deux anneaux de vorticit e d'axe (Ox), de circulations Γ_1 et Γ_2 dans le sens direct autour de (Ox), de rayons R_1 et R_2 , et dont les centres sont aux abscisses $x_1(t)$ et $x_2(t) > x_1(t)$.

17) Les rayons R_1 et R_2 des anneaux 1 et 2 sont supposés très faibles devant la distance ξ entre les anneaux. Dans cette limite, le champ de vitesse $\mathbf{u}_{1 \rightarrow 2}$ engendré par l'anneau 1 en tout point de l'anneau 2 est donné approximativement par le champ dipolaire (4), évalué sur l'axe (Ox), à une distance $\xi(t)$ du centre de l'anneau 1. Donnez l'expression de cette vitesse $\mathbf{u}_{1 \rightarrow 2}$. En utilisant la même approximation, donnez l'expression du champ de vitesse $\mathbf{u}_{2 \rightarrow 1}$ engendré par l'anneau 2 en tout point de l'anneau 1.

18) La vitesse totale de déplacement de l'anneau 1 est donnée par la contribution $\mathbf{u}_{2 \rightarrow 1}$ calculée précédemment, à laquelle s'ajoute la vitesse d'auto-propulsion $\mathbf{u}_{1 \rightarrow 1}$ de l'anneau, calculée aux questions 11) et 12). De même, la vitesse totale de l'anneau 2 comprend la contribution $\mathbf{u}_{1 \rightarrow 2}$ engendrée par l'anneau 1, et la vitesse d'auto-propulsion $\mathbf{u}_{2 \rightarrow 2}$ de l'anneau 2. Ecrire le système d'équations différentielles vérifié par $x_1(t)$ et $x_2(t)$. Montrez que ces deux équations différentielles peuvent être combinées en une unique équation pour $\xi(t)$.

On introduit les paramètres $\epsilon > 0$ et $\delta > 0$ définis par :

$$\frac{\Gamma_2}{R_2} = (1 + \epsilon) \frac{\Gamma_1}{R_1} \quad \text{et} \quad \Gamma_2 R_2^2 = (1 + \delta) \Gamma_1 R_1^2, \quad (5)$$

et on suppose $\epsilon > 0$ et $\delta > 0$. On note finalement $\xi_0 = \xi(t = 0)$ la distance initiale entre les deux centres des anneaux.

19) Montrez que, selon la valeur initiale de ξ_0 , les anneaux s'éloignent ou se rapprochent l'un de l'autre. Donnez la valeur ξ_c de ξ_0 séparant ces deux régimes, en fonction de C , R_1 , ϵ et δ .

20) Dans le cas où les anneaux se rapprochent, ce modèle est-il apte à décrire la collision des deux anneaux ?

3 Auto-induction d'une ligne de vorticité

On considère maintenant une ligne de vorticité de forme arbitraire et de circulation Γ . Au cours du temps, cette ligne se déplace et se déforme du fait du champ de vitesse qu'elle engendre. Calculer ce champ de vitesse de manière exacte est une tâche très compliquée dans le cas général. On utilise donc l'approximation suivante : en chaque point \mathbf{x}_0 de la ligne on trace un cercle tangent à la ligne de vorticité, dans le plan contenant localement la ligne en \mathbf{x}_0 . On suppose alors que le point \mathbf{x}_0 de la courbe se déplace comme se déplacerait ce cercle tangent (à la même vitesse et dans la même direction). La vitesse de déplacement du point \mathbf{x}_0 dépend alors uniquement du rayon de courbure local de la ligne de vorticité en \mathbf{x}_0 , selon la relation:

$$\mathbf{u} = C \Gamma \mathbf{t} \wedge \frac{\mathbf{n}}{\mathcal{R}}. \quad (6)$$

Dans cette expression, \mathbf{t} est le vecteur unitaire localement tangent à la courbe dans la direction de la circulation Γ , \mathbf{n} est le vecteur unitaire perpendiculaire à \mathbf{t} dans le plan local de la courbe, et dirigé vers l'intérieur de la courbure, $\mathcal{R} > 0$ est le rayon de courbure local de la ligne de

vorticité, et C est la même constante numérique que dans l'équation (3). On rappelle que $C > 0$.

21) On considère de nouveau l'anneau de vorticité des questions 11) et 12). Dessinez cet anneau. Choisir un point \mathbf{x}_0 arbitraire sur cet anneau, et dessinez les vecteurs \mathbf{t} , \mathbf{n} et \mathbf{u} en \mathbf{x}_0 . Vérifiez que l'équation (6) donne un vecteur vitesse qui correspond aux résultats de la partie 2.

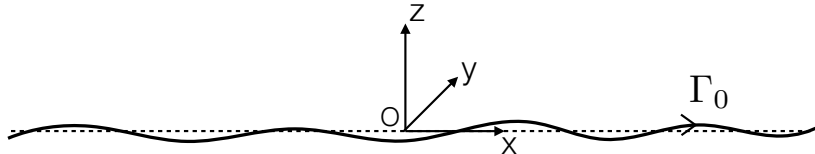


Figure 7: Une ligne de vorticité de circulation Γ déformée au voisinage de l'axe (Ox) . En toute abscisse x , on note $Y(x, t)$ et $Z(x, t)$ les déformations transverses de la ligne par rapport à l'axe (Ox) .

On considère maintenant une ligne de vorticité faiblement déformée, si bien qu'elle coïncide presque avec l'axe (Ox) . Cette ligne est représentée schématiquement sur la figure 7. Sa circulation Γ_0 est dirigée vers les x positifs. Cette ligne peut être décrite comme une courbe paramétrée en x , que l'on note $\mathbf{X}(x, t) = (x, Y(x, t), Z(x, t))$. Les déplacements transverses $Y(x, t)$ et $Z(x, t)$ évoluent dans le temps du fait du champ de vitesse induit par la ligne de vorticité. On considère uniquement des petits déplacements transverses Y et Z , si bien que l'on peut linéariser les équations vis-à-vis de ces deux variables. On écrira donc :

$$\mathbf{t} \simeq \mathbf{e}_x, \quad (7)$$

$$\frac{\mathbf{n}}{\mathcal{R}} \simeq \begin{pmatrix} 0 \\ \frac{\partial^2 Y}{\partial x^2} \\ \frac{\partial^2 Z}{\partial x^2} \end{pmatrix}. \quad (8)$$

22) Montrez que $Y(x, t)$ et $Z(x, t)$ vérifient alors le système d'équations différentielles :

$$\frac{\partial Y}{\partial t} = -C \Gamma_0 \frac{\partial^2 Z}{\partial x^2}, \quad (9)$$

$$\frac{\partial Z}{\partial t} = C \Gamma_0 \frac{\partial^2 Y}{\partial x^2}. \quad (10)$$

On cherche des solutions de ce système d'équations sous la forme d'ondes :

$$\begin{pmatrix} Y(x, t) \\ Z(x, t) \end{pmatrix} = \text{Re} \left\{ \begin{pmatrix} Y_0 \\ Z_0 \end{pmatrix} e^{i(\omega t - kx)} \right\}, \quad (11)$$

où $k \in \mathbb{R}$, $\omega \in \mathbb{R}$, $(Y_0, Z_0) \in \mathbb{C}^2$, et Re désigne la partie réelle.

23) Calculez et tracez la relation de dispersion $\omega(k)$ des ondes obtenues, appelées ondes de Kelvin. Ces ondes sont-elles dispersives ? Justifiez votre réponse.

24) Comme les ondes électromagnétiques, les ondes de Kelvin sont des ondes transverses. On peut donc définir leur polarisation. Déterminez la polarisation des ondes de Kelvin. Décrivez la structure spatiale d'une de ces ondes à un instant donné : quelle est la forme de la ligne de vorticit  ?

25) Nous avons lin aris  les  quations pour calculer les ondes de Kelvin, en supposant les d placements transverses $|Y|$ et $|Z|$ petits. Pour une onde donn e, devant quelle longueur caract ristique ces d placements transverses doivent-ils  tre petits pour que l'approximation soit valable ?

4 Sillage d'un avion



Figure 8: Tourbillons de sillage derri re un avion. L'image du bas est un zoom de celle du haut.

On souhaite d crire l' volution des tourbillons de sillage d'un avion observ s sur les photographies de la figure 8. Les deux tourbillons ont des axes approximativement parall les et tournent en sens oppos s. Au cours du temps, ces lignes de vorticit  se d forment jusqu'  venir se toucher.

On mod lise l' tat initial de ce sillage par deux lignes de vorticit  faiblement d form es au voisinage de deux axes parall les   (Ox) . Ces axes sont distants de ℓ dans la direction y . Les lignes 1 et 2 ont respectivement pour circulation $\Gamma_0 \mathbf{e}_x$ et $-\Gamma_0 \mathbf{e}_x$, avec $\Gamma_0 > 0$. Pour simplifier, on consid re que les deux lignes gardent   tout instant des d formations sym triques l'une de

l'autre par rapport au plan $y = 0$. On paramètre donc ces deux lignes sous la forme :

$$\mathbf{X}_1(x, t) = \begin{pmatrix} x \\ \ell/2 + Y(x, t) \\ Z(x, t) \end{pmatrix} \quad \text{et} \quad \mathbf{X}_2(x, t) = \begin{pmatrix} x \\ -\ell/2 - Y(x, t) \\ Z(x, t) \end{pmatrix}. \quad (12)$$

On peut alors se concentrer sur la ligne 1 uniquement, la forme de la ligne 2 étant obtenue à tout instant par réflexion par rapport au plan $y = 0$. Chacun des points de cette ligne se déplace en suivant le champ de vitesse local, qui comprend deux contributions : le champ de vitesse $\mathbf{u}_{1 \rightarrow 1}(x, t)$ induit par la déformation de la ligne 1 elle-même, et le champ de vitesse $\mathbf{u}_{2 \rightarrow 1}(x, t)$ induit par la ligne 2 en tout point de la ligne 1.

26) Faites un schéma dans un plan $x = cste$, en indiquant ℓ , $Y(x, t)$, $Z(x, t)$ et les points d'intersection des deux lignes de vorticité avec le plan. On note $d(x, t)$ la distance séparant ces deux points d'intersection dans le plan. Exprimez $d(x, t)$ en fonction de ℓ et $Y(x, t)$.

27) On souhaite d'abord déterminer la contribution $\mathbf{u}_{2 \rightarrow 1}(x, t)$. Pour ce faire, on considère que $Y(x, t)$ et $Z(x, t)$ varient suivant x sur une taille caractéristique λ grande devant ℓ . Pour toute valeur de x , on peut alors calculer la vitesse induite par la ligne 2 sur la ligne 1 en remplaçant ces deux lignes par des lignes droites, parallèles à (Ox), et séparées par une distance $d(x, t)$. Exprimez alors la vitesse $\mathbf{u}_{2 \rightarrow 1}(x, t)$ exercée par la ligne 2 sur la ligne 1 en fonction de Γ_0 , ℓ et $Y(x, t)$.

28) Dans la limite des faibles déformations $Y(x, t) \ll \ell$, développez l'expression de $\mathbf{u}_{2 \rightarrow 1}$ au premier ordre en $Y(x, t)/\ell$. Pour des lignes faiblement déformées, la vitesse d'auto-induction $\mathbf{u}_{1 \rightarrow 1}(x, t)$ est toujours donnée par les membres de droite des équations (9-10). Montrez que l'évolution de $Y(x, t)$ et $Z(x, t)$ est régie par le système d'équations linéarisées :

$$\frac{\partial Y}{\partial t} = -C \Gamma_0 \frac{\partial^2 Z}{\partial x^2}, \quad (13)$$

$$\frac{\partial Z}{\partial t} = C \Gamma_0 \frac{\partial^2 Y}{\partial x^2} - \frac{\Gamma_0}{2\pi\ell} + \frac{\Gamma_0}{\pi\ell^2} Y. \quad (14)$$

29) On introduit la nouvelle variable $\zeta(x, t) = Z(x, t) + \frac{\Gamma_0}{2\pi\ell} t$. Ecrivez le système d'équations couplées vérifiées par $Y(x, t)$ et $\zeta(x, t)$. A quoi correspond physiquement ce changement de variables ?

30) On cherche de nouveau des solutions de ce système d'équations sous la forme d'ondes :

$$\begin{pmatrix} Y(x, t) \\ \zeta(x, t) \end{pmatrix} = \text{Re} \left\{ \begin{pmatrix} Y_0 \\ \zeta_0 \end{pmatrix} e^{i(\omega t - kx)} \right\}, \quad (15)$$

avec $k \in \mathbb{R}$, $\omega \in \mathbb{C}$, et $(Y_0, \zeta_0) \in \mathbb{C}^2$. Calculez la relation de dispersion $\omega(k)$. Montrez que pour certaines valeurs de k , la pulsation devient imaginaire pure et le système admet des solutions exponentiellement croissantes dans le temps.

- 31) Pour quelle gamme de longueur d'ondes peut-on observer ces solutions exponentiellement croissantes ? Exprimez la longueur d'onde critique λ_c qui sépare ces solutions des solutions oscillantes.
- 32) On définit le taux de croissance $\sigma = |\text{Im}(\omega)|$. Calculez la longueur d'onde λ_m pour laquelle ce taux est maximum.
- 33) Tracez le taux de croissance σ en fonction de la longueur d'onde λ .
- 34) En prenant la valeur de C calculée à la question 14), l'ordre de grandeur de l'expression de λ_m obtenue à la question 32) est-il compatible avec les images de la figure 8 ?
- 35) Les déplacements $Y(x, t)$ et $\zeta(x, t)$ sont transverses par rapport au vecteur d'onde $k\mathbf{e}_x$. Par analogie avec les ondes électromagnétiques, on s'intéresse de nouveau à la polarisation des solutions (15) dans tous les cas de figure rencontrés précédemment. Discutez l'évolution de la polarisation de la ligne 1 en fonction de λ . Comment sont reliées les polarisations des lignes 1 et 2 ? Dans quelle limite retrouve-t-on la polarisation décrite à la question 24) ? Expliquez physiquement pourquoi.

★ ★
★